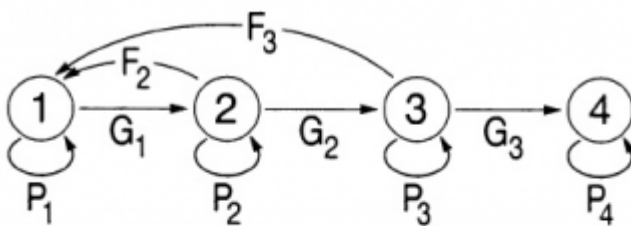




# Modelos populacionais matriciais - Roteiro no Google Sheets

## Matrizes de Leslie/Lefkovitch

O crescimento de uma população com estrutura etária pode ser projetado utilizando-se álgebra matricial. As matrizes de Leslie contêm informação sobre as taxas de natalidade e mortalidade de diferentes classes etárias de uma população e são uma forma robusta de calcular o crescimento populacional e fazer projeções da população para diferentes cenários. Uma generalização da matriz de Leslie ocorre quando a população é classificada por estágios de desenvolvimento (matriz de Lefkovitch) e não por idade. Neste caso, um indivíduo de uma dada classe pode permanecer no mesmo estágio a cada intervalo de tempo, além de morrer, crescer e reproduzir.



$$\begin{pmatrix} P_1 & F_2 & F_3 & 0 \\ G_1 & P_2 & 0 & 0 \\ 0 & G_2 & P_3 & 0 \\ 0 & 0 & G_3 & P_4 \end{pmatrix}$$

## Objetivo


O objetivo desse exercício é entender como podemos descrever a dinâmica de populações estruturadas com modelos matriciais.

## Entendendo a planilha e as matrizes

### Abrindo a planilha

Por meio do link abaixo acesse o arquivo “**euterpe\_2021**” que está na pasta chamada DINPOP\_2021 no Google Drive da disciplina:

<https://docs.google.com/spreadsheets/d/1CADK6aINL7eFF1muEj4BZkXsBNRXd8cCOADb4MN1Rc8/edit?usp=sharing>

 Você precisa estar conectado ao seu e-mail<sup>1)</sup> para conseguir acessar a pasta. Somente pessoas com e-mails autorizados podem acessar.


### Siga os passos indicados abaixo:

1. Abra o arquivo **euterpe\_2021** (**Importante: não modifique nada nesse arquivo!! Ele será usado por todas as outras pessoas**)
2. Vá para o menu “Arquivo” > selecione a opção “Fazer uma cópia”
3. Na caixa de “Nome do arquivo” mantenha o trecho “euterpe\_2021” no nome e adicione seu nome ao final
4. Na caixa “Pasta”, localize a pasta “Resultados\_Estudantes\_2021” e salve esse arquivo dentro dessa pasta <sup>2)</sup>
5. Nesse arquivo com o seu nome você poderá fazer o exercício indicado abaixo
6. Ao finalizar as atividades do exercício, renomeie o arquivo para “euterpe\_2021\_SeuNome\_ **finalizado**”
7. Caso queira ficar com uma cópia para consultar depois, faça o download desse arquivo finalizado para o seu computador

### O que é essa planilha?

Nessa planilha temos a matriz de transição de uma população de palmito jussara (*Euterpe edulis*) existente na parcela permanente da Ilha do Cardoso. Essa parcela é uma área de 10,24 hectares na qual vem sendo realizado um acompanhamento da dinâmica da floresta sobre restinga.

No ano de 2005 todas as árvores dessa espécie com dap (diâmetro à altura do peito) maior que 5 cm foram marcadas e medidas. Em 2009 um novo censo foi feito. Assim, foi possível estimar as probabilidades de um indivíduo em uma certa classe de tamanho permanecer nesta classe, passar à próxima classe ou morrer. Além disso, o número de novos registros em 2009 estima a quantidade de ingressantes, e permite estimar a fecundidade das populações.

 Para esse exercício dividimos as árvores em três classes de tamanho:

- **Adultos (Ad)**: acima de 9,0 cm de dap
- **Jovens 2 (J2)**: de 7,1 a 9,0 cm de dap
- **Jovens 1 (J1)**: de 5,0 a 7,1 cm de dap

### Como estimamos as probabilidades de transição?

O número de árvores em cada classe registrado em 2005 será nosso ponto de partida. Esses números estão nas células H4 a H6 da planilha.

Em 2005 havia 1343 árvores da menor classe de tamanho (Jovens 1). Dessas, 989 continuavam nessa mesma classe em 2009 e 238 passaram à classe seguinte (Jovens 2) e o restante das árvores (8,9%) morreu. Assim, a probabilidade de permanência na classe Jovens 1, em 4 anos, é de:

$$p_{(J1 \rightarrow J1)} = \frac{989}{1343} = 0,736$$

E a probabilidade de passar à classe seguinte (J2) é:

$$p_{(J1 \rightarrow J2)} = \frac{238}{1343} = 0,177$$

Depois, repetimos o cálculo para todas as permanências e transições entre as três classes (J1, J2 e Ad).

### Como estimamos a fecundidade?

Em 2005 havia 265 árvores adultas na parcela. Em 2009 foram registrados 360 ingressantes. Então estimamos a fecundidade pela média de ingressantes em relação aos adultos<sup>3)</sup>:

$$F_{(Ad \rightarrow J1)} = \frac{360}{265} = 1,105$$

A partir desses cálculos foi então construída a matriz de transição completa que está na planilha, localizada nas células C4 a E6. Analise essa matriz e veja se você compreende como foi calculado o valor de cada célula.

## Exercício: Multiplicando Matrizes

### Os cálculos passo a passo

- **1.** Vamos multiplicar o vetor de tamanho da população (células H4 a H6) pela matriz de transição (células C4 a E6). Para isso, posicione o cursor na célula I4, escreva a seguinte fórmula =MMULT(\\$C\\$4:\\$E\\$6 ; H4:H6) e clique Enter/OK

O símbolo de \$ colocado na frente das letras e números fixa a seleção das linhas e colunas referentes à matriz de transição na fórmula. Dessa forma, se você copiar a fórmula para outras colunas/linhas a fórmula continuará usando a mesma matriz de transição. Isso ajudará a projetar a população automaticamente, sem a necessidade de refazer o passo anterior para cada tempo. **Não fixe o vetor de tamanho da população, ou seja a segunda parte dentro dos parênteses.**

O resultado da multiplicação é um vetor com o número de indivíduos em cada uma das classes no instante de tempo seguinte ( $t+1$ ). Esses três valores devem estar agora na coluna correspondente ao tempo 2 (células I4 a I6).

- **2.** Para projetar a população para os intervalos de tempo seguintes, você pode proceder de duas formas diferentes: 1) Selecione todo o vetor (as três células da coluna com o resultado - certifique-se que a fórmula está com os símbolos \$), copie e cole na coluna seguinte. Repita esse procedimento para várias colunas (ou seja, vários tempos futuros) até a coluna que deseja projetar a população; 2) Selecione todo o vetor (as três células da coluna com o resultado - certifique-se que a fórmula está com os símbolos \$), em seguida posicione o cursor sobre o quadradinho azul que aparece no canto inferior direito da seleção até aparecer o sinal de "+", clique, segure e arraste horizontalmente até a coluna que deseja projetar a população.
- **3.** Após projetar a população por 25 intervalos de tempo, produza um gráfico com o número de indivíduos de cada classe ao longo do tempo. Faça também um gráfico do total da população ao longo do tempo. Para obter o total da população basta fazer a soma das classes de cada vetor. Verifique o que acontece com o tamanho das classes e da população como um todo.
- **4.** Faça agora um gráfico da proporção de indivíduos em cada classe ao longo do tempo. O tipo de gráfico ideal para esse tipo de informação é um gráfico de colunas empilhadas e com soma de 100%. Verifique o que acontece com a distribuição das proporções das classes ao longo do tempo.
- **5.** Calcule o  $\lambda$ , ou seja, o quanto a população total cresceu de um tempo para outro ( $\lambda = \frac{N_{t+1}}{N_t}$ ) e faça o gráfico dessa taxa de crescimento da população ao longo do tempo.

## Para saber mais

Gotelli, N. J. 2007. Ecologia. Cap.3- Crescimento Populacional Estruturado. Pp. 49-82. Ed. Planta.

Gurevitch, J, Scheiner, S.M, Fox, G.A. 2009. Ecologia Vegetal. Cap. 5 - Ed. Artmed, São Paulo.

[An Intuitive Guide to Linear Algebra](#), do excelente site [Better explained](#).

Freckleton, R.P., Silva Matos, D.M., Bovi, M.L.A & Watkinson, A.R. 2003. Predicting the impacts of harvesting using structured population models: the importance of density-dependence and timing of harvest for a tropical palm tree. *Journal of Applied Ecology*, 40: 846-858.

Silva Matos, D.M., Freckleton, R.P. & Watkinson, A.R. 1999. The role of density dependence in the population dynamics of a tropical palm. *Ecology*, 80: 2635-2650.

## Programas

Neste roteiro fizemos os cálculos passo a passo e com algumas aproximações numéricas para compreender os conceitos. Na vida real pesquisadores usam ferramentas computacionais que fazem os cálculos precisos e de um jeito mais prático. Para saber mais veja a apresentação ao pacote [popbio](#) do ambiente de programação estatística [R](#):

- Stubben, C., & Milligan, B. (2007). Estimating and analyzing demographic models using the popbio package in R. [Journal of Statistical Software, 22\(11\), 1-23.](#)

1)

o endereço que foi confirmado para a comunicação com a disciplina

2)

lembre-se de clicar duas vezes quando aparecer o nome da pasta para que o arquivo realmente seja salvo dentro dela

3)

Esse método de calcular a fecundidade é bem simplista, mas para a compreensão dos cálculos de uma matriz de transição será adequado e suficiente

From:

<http://ecovirtual.ib.usp.br/> -

Permanent link:

[http://ecovirtual.ib.usp.br/doku.php?id=ecovirt:roteiro:pop\\_str:pstr\\_mtrgoogle&rev=1628912707](http://ecovirtual.ib.usp.br/doku.php?id=ecovirt:roteiro:pop_str:pstr_mtrgoogle&rev=1628912707) 

Last update: **2021/08/14 00:45**